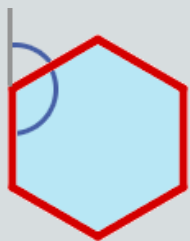
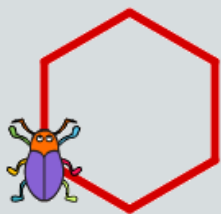


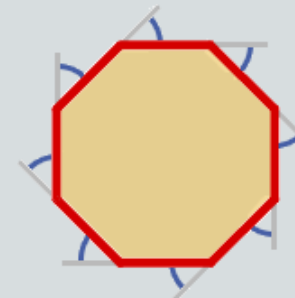
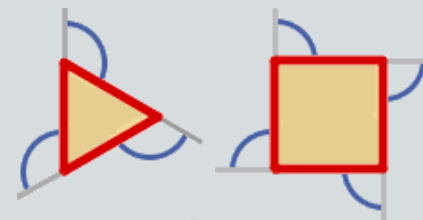
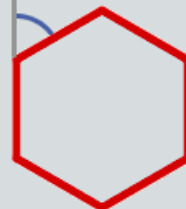
MODUL 2 • PLAKÁT 4 • O kolik mám zatočit?



sousední úhly vnitřní úhel vnější anebo „zatočecí“ úhel



otoč se ↻ o 60 stupňů



opakuji 6 krát

dopředu o 65 kroků

otoč se ↻ o 60 stupňů

Sousední úhly spolu vždy tvoří **přímý úhel**, a ten má 180 stupňů.

Když pan **Brouk** kreslí pravidelný mnohoúhelník, zatočí vždy o **vnější**, tedy **zatočecí** úhel.

Součet všech jeho zatočecích úhlů je přesně **plný úhel**, tedy **360** stupňů. Zatočecí úhel proto vypočítáme, když 360 vydělíme počtem zatočení.

